

Prénom : .....


Date : .....




# GÉOMÉTRIE

Reproduction de figures (03)

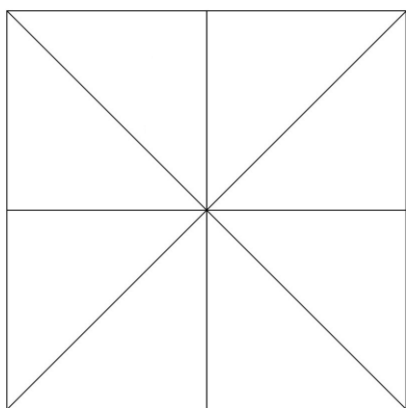
## LA CIBLE (02)



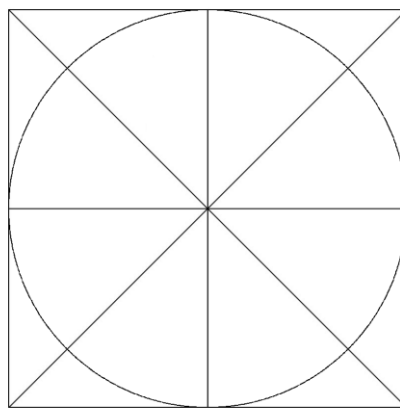
1  
- Trace un carré de 16 centimètres de côté.



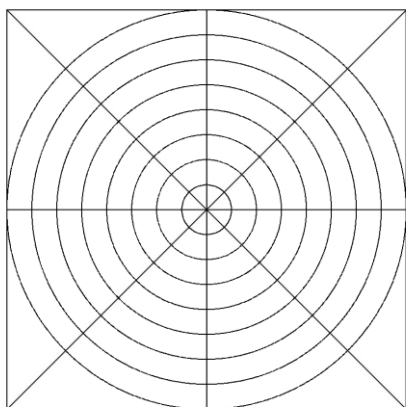
2  
- Trace les 2 médiatrices du carré.




3  
- Trace les 2 diagonales du carré.



4  
- Trace un cercle de même centre que le carré et de 8 centimètres de rayon.



5  
- Trace 7 autres cercles concentriques en réduisant le rayon d'1 centimètre à chaque fois.



6  
- Colorie.